

2025年
対策

旅行

1

業務取扱管理者試験

標準

トレーニング 問題集

観光地理
〈国内・海外〉

国内・総合受験対応



過去20年の試験問題から**厳選**

試験にでる観光地理は
この1冊でマスター!

解いて覚える!でる地理

国内 **300** 問 + 海外 **300** 問

資格の大原 旅行業務取扱管理者講座 編著
大原出版

資格
の大原

2025年
対策

旅行 業務取扱 管理者試験

標準 トレーニング
問題集

1

観光地理〈国内・海外〉

国内・総合受験対応

本書の特長



本試験によく「でる地理」を分析・厳選

過去の本試験問題を徹底分析！

過去20年分の本試験問題から、国内300問・海外300問をセレクト！
本試験によく「でる地理」だけを厳選して収録。





出題範囲が広く、過去問題も多すぎて
どれから勉強すればいいかわからない



初めてでもよくわかる別冊「解答・解説集」

解答・解説は取り外し可能。解答後の確認に便利です。
わかりやすい解説付きなので、初めて学ぶ方でも安心！





受験のノウハウが満載

「試験概要」「学習ポイント」「活用方法」を
わかりやすく解説

2-3. トレーニング問題集の活用方法

(1) 問題を解く目的

問題を解く際には、正誤を憶えるのではなく、正誤判断をするための「キーワード」と「その理由」を憶えることが重要です。したがって、問題を解く際には、繰り返し問題集を見つけて、覚え

3-2. 国内観光地理 学習ポイント

① 観光資源は都道府県名とセットで覚えよう！
観光資源の特徴となるキーワードを押さえよう！

Section 1 総合旅行業務取扱管理者試験 試験概要 (例年)

① 試験科目と出題数と試験時間 (4科目受験者)

午前 (80分)	① 旅行業法及びこれに基づく命令	(25問：100点)
	② 旅行業約款、運送約款及び宿泊約款	(20問：80点)
午後 (120分)	③ 国内旅行実務	国内観光地理 (20問：40点)
		国内運賃・料金計算 (12問：60点)
	④ 海外旅行実務	国際航空運賃・料金計算 (8問：40点)
		出入国・海外実務 (8問：40点)
		出入国法令 (8問：40点)
		海外観光地理 (20問：40点)
	語学(英語) (8問：40点)	

② 合格基準点
各受験科目で満点の60%以上を得点した者です。

学習しよう！
温泉」「祭り・行事」「郷土料理」「九州・沖縄」

には、繰り返し問題集の一つの目安となる。

「出題傾向と対策」が
一目でわかる
出題項目一覧表

Section 3 国内観光地理 出題傾向と対策

3-1. 国内観光地理 出題項目一覧表

(※) 令和6年度の「国内」は協会が公表した出題例の問題の情報となります。

項目	令和2年度	令和3年度	令和4年度	令和5年度	令和6年度
	総合	国内	総合	国内	総合
★温泉	○	○	○	○	○
★湖沼	○	○	○	○	○
河川	×	×	×	×	×
★山岳	○	○	○	○	○
★高原・湿原	×	○	×	○	×

「メリハリ学習」ができる
重要度ランクの表示

<重要度の表示欄>

試験対策上の重要度によって、優先度の高い順にA・B・Cに分類しております。

A・・・出題頻度が高く、絶対に落とせない問題。

B・・・出題頻度は低いが、確実に正解したい問題。


C・・・出題頻度が低く、難度の高い問題。
地理を得意科目とする受験生向けの問題。

POINT!!
4

理解度・習熟度が把握できる「3回転チェック欄」

合格するためには繰り返し学習が欠かせません。

間違った問題や、知識があやふやな問題には「○」「△」「×」を付ければ、理解度の確認に便利です。



〔問2〕A 温泉地の読み方で、誤っているものを1つ選びなさい。

a. 老神（群馬県） — オイガミ
b. 白
c. 湯
d. 温

〔3〕理解度チェック欄の使用法

下記の判定基準を参考に、理解度チェック欄に「○」「△」「×」を付けたら問題を解きましょう。

○	正解を出すことができた。 理由付け（正誤判断）も完璧にできた。
△	正解を出すことができた。 理由付け（正誤判断）ができなかった、あいまいであった。
×	正解を出すことができなかった。 理由付け（正誤判断）することが全くできなかった。

POINT!!
5

持ち運びしやすい本の大きさ

システム手帳（A5サイズ）と同じ大きさなので、持ち運びに便利です。



かばんに楽々収納できるので、どこでも気軽に学習できます。

はじめに① 本書の使い方

Section 1 本書の使用にあたって

1-1. 使用対象・作成時期について

国内観光地理トレーニング問題集は、総合旅行業務取扱管理者試験（以下「総合」という。）及び国内旅行業務取扱管理者試験（以下「国内」という。）のそれぞれの国家試験に出題される「国内旅行実務：国内観光地理」について解説した両試験対策のための共用問題集です。したがって、両試験の合格を目指す受験生に共通でご使用いただけるように内容を編集しております。

海外観光地理トレーニング問題集は、国家試験である「総合」に出題される「海外旅行実務：海外観光地理」について解説した試験対策のための問題集です。「総合」の合格を目指す受験生にご使用いただけるように内容を編集しております。

本トレーニング問題集は、平成8年～令和6年までの「総合」及び「国内」の問題のうち、厳選したものを掲載しています。本試験の出題時以降、改正等により正しい解答が導けなくなった問題については、修正を加えております。

観光地理（国内・海外）トレーニング問題集は、2024年11月1日現在を基準として編集しております。

1-2. 地名等について

トレーニング問題集に掲載する地名等については、原則として、国内観光地理は都道府県等の公式ホームページや百科事典など、海外観光地理は各国・地域の観光局等の公式ホームページや百科事典などに基づいております。

ただし、過去の本試験でこれと異なる名称で出題されたことがあるものは、本試験で出題された名称を採用しております。

《受験生のためのオトクな情報をメルマガ配信》

試験にもでる！全国の祭り・行事情報などを月一配信。試験の最新情報や改正情報もわかります。ぜひご登録ください。

ご登録はこちらから ⇒ https://www.o-hara.jp/mail_magazine



Section 2 トレーニング問題集の使用法

2-1. 合格のための効率的な学習方法

「標準トレーニング問題集」は、過去に出題された本試験問題の中から重要な問題を厳選して収録した、本試験の出題形式に合わせた、虫食い式（空欄穴埋め）問題や組み合わせ問題、4肢択一問題、語群選択問題による学習教材です。姉妹書「標準テキスト」などのテキストで学習したら、観光地・観光資源などに関する問題を解くという学習が最も効果的です。

テキストを読んでばかりいても、合格することはできません。合格するために必要な「知識を活用し、正解を導ける力」は、問題を繰り返し解くことで身に付くものです。問題を解くことで出題ポイント・傾向が確認・把握できますし、理解できていない・覚えていない箇所があれば、テキストに立ち返って復習することで理解度も深まります。

2-2. トレーニング問題集の仕様（記載例）

<理解度チェック欄>

問題を解く際にご利用ください。

詳細は「2-3. トレーニング問題集の活用方法」をご覧ください。

〔問〇:A〕 ○○○○○○○○○○○○○○○○○○○○○○○○○○○○○○○○

<重要度の表示欄>

試験対策上の重要度によって、優先度の高い順にA・B・Cに分類しております。

A . . . 出題頻度が高く、絶対に落とせない問題。

B . . . 出題頻度は低いが、確実に正解したい問題。

C . . . 出題頻度が低く、難度の高い問題。

地理を得意科目とする受験生向けの問題。

2-3. トレーニング問題集の活用方法

(1) 問題を解く目的	
問題を解く際には、正誤を憶えることではなく、正誤判断をするための「キーワード」と「その理由」を憶えることが重要です。したがって、問題を解くにあたっては、「キーワード」と「その理由」を見つけ、覚え込むことを強く意識してください。	
(2) 回転と目標	
問題の「キーワード」を記憶として定着させるためには、 繰り返し問題を解く（回転させる）ことが必要 です。 これまでの合格された方の声によると、 3回転以上が一つの目安 となるようです。そこで各問題に チェック欄を3回転分 設けております。 チェック欄をチェック していくと、回転の 進捗状況や理解度 が一目で分かかって便利です。	
(3) 理解度チェック欄の使用方法	
下記の判定基準を参考に、理解度チェック欄に「○」「△」「×」を付けながら問題を解きましょう。	
○	正解を出すことができました。 理由付け（正誤判断）も完璧にできた。
△	正解を出すことができました。 理由付け（正誤判断）ができなかった、あいまいであった。
×	正解を出すことができなかった。 理由付け（正誤判断）することが全くできなかった。
「△・×が続く問題」が、ご自身が苦手としている問題です。この「△・×が続く問題」を確実に克服していくことが、合格への絶対条件になります。 「△・×が続く苦手な問題」を記録し把握しておけば、「学習時間があまり取れない時期の復習」「直前期の総復習」などに大いに役立ちます。	

2-4. 解答・解説集について

本トレーニング問題集の巻末には、観光地理（国内・海外）の解答・解説集を掲載しており、本トレーニング問題集から取り外すことができます。

国内観光地理トレーニング問題集

Lesson 1	温泉	P 2
Lesson 2	自然景観（湖沼）	P 8
Lesson 3	自然景観（河川）	P 11
Lesson 4	自然景観（山岳）	P 13
Lesson 5	自然景観（高原・湿原、峠、鍾乳洞）	P 15
Lesson 6	自然景観（渓谷・峡谷、滝）	P 18
Lesson 7	自然景観（半島・岬・海岸）	P 22
Lesson 8	自然景観（島）	P 28
Lesson 9	観光都市、史跡など	P 31
Lesson 10	城郭、神社、寺院、庭園など	P 38
Lesson 11	美術館・博物館・記念館など	P 47
Lesson 12	郷土料理、名産品	P 49
Lesson 13	祭り・伝統行事	P 54
Lesson 14	世界遺産	P 59
Lesson 15	国立公園	P 67
Lesson 16	観光コース作成問題	P 74
Lesson 17	総合問題	P 85

海外観光地理トレーニング問題集

Lesson 1	アジア	P 110
Lesson 2	中近東	P 132
Lesson 3	西ヨーロッパ	P 135
Lesson 4	東ヨーロッパ	P 158
Lesson 5	北アメリカ	P 161
Lesson 6	南アメリカ	P 178
Lesson 7	アフリカ	P 182
Lesson 8	オセアニア	P 188



国内観光地理 トレーニング問題集

《トレーニング問題集の利用にあたって》

本書に掲載されている問題のうち、各設問文の末尾が「～を選択肢からすべて選びなさい」とある場合は、「正しい（又は、誤っている）」と判断した**ものについて、解答用紙（マークシート）にすべてマークすることとなります。**それ以外の設問は、解答用紙（マークシート）に、「正しい（又は、誤っている）」と判断した**もの1つマークすることとなります。**

Lesson 1

温泉

〔問1：A〕次の温泉の名称の読みが正しいものには○、誤っているものには×を記入しなさい。

- (1) 秋保（あきほ）温泉 [宮城県]
 (2) 温海（あつみ）温泉 [山形県]
 (3) 四万（しまん）温泉 [群馬県]
 (4) 芦原（あしはら）温泉 [福井県]
 (5) 熱川（ねつかわ）温泉 [静岡県]
 (6) 城崎（きのさき）温泉 [兵庫県]
 (7) 三朝（みささ）温泉 [鳥取県]
 (8) 武雄（たけお）温泉 [佐賀県]
 (9) 鉄輪（てつのわ）温泉 [大分県]
 (10) 指宿（ゆびしゆく）温泉 [鹿児島県]

〔問2：A〕 温泉地の読み方で、誤っているものを1つ選びなさい。

- a. 老神（群馬県） - オイガミ
 b. 白骨（長野県） - シラホネ
 c. 湯郷（岡山県） - ユノサト
 d. 温泉津（島根県） - ユノツ

〔問3：A〕 次に掲げる温泉のうち、読み方が正しいものを1つ選びなさい。

- a. 湯川（ゆがわ）温泉 [北海道]
 b. 酸ヶ湯（すかゆ）温泉 [青森県]
 c. 四万（しまん）温泉 [群馬県]
 d. 下部（かべ）温泉 [山梨県]

〔問4：B〕 次の温泉と同一都道府県にある温泉の組み合わせのうち、正しい組み合わせを選択肢からすべて選びなさい。

- a. 登別温泉 — 定山溪温泉
- b. 下部温泉 — 下諏訪温泉
- c. 西浦温泉 — 三谷温泉

〔問5：A〕 次の温泉地の組み合わせのうち、すべてが同一都道府県内にあるものを1つ選びなさい。

- a. 熱海温泉 — 土肥温泉 — 館山寺温泉
- b. 城崎温泉 — 有馬温泉 — 奥津温泉
- c. 湯田温泉 — 道後温泉 — 川棚温泉
- d. 内牧温泉 — 天ヶ瀬温泉 — 菊池温泉

〔問6：A〕 次の温泉地の組み合わせのうち、すべてが同じ都道府県にあるものを1つ選びなさい。

- a. 越後湯沢温泉 — 赤倉温泉 — 野沢温泉
- b. 下部温泉 — 修善寺温泉 — 館山寺温泉
- c. 奥津温泉 — 三朝温泉 — 皆生温泉
- d. 山鹿温泉 — 菊池温泉 — 人吉温泉

〔問7：B〕 次の温泉地の組み合わせのうち、すべてが同じ都道府県にあるものを1つ選びなさい。

- a. 天童温泉 — 赤湯温泉 — 飯坂温泉
- b. 別所温泉 — 大町温泉 — 昼神温泉
- c. 粟津温泉 — 山代温泉 — 芦原温泉
- d. 白浜温泉 — 湯ノ峰温泉 — 十津川温泉

〔問8：A〕 次の温泉地のうち、その所在地がすべて同じ都道府県内にある組み合わせを1つ選びなさい。

- a. あつみ温泉 － 蔵王温泉 － 銀山温泉
- b. 飯坂温泉 － 遠刈田温泉 － 芦ノ牧温泉
- c. 内牧温泉 － 黒川温泉 － 日田温泉
- d. 下呂温泉 － 白骨温泉 － 新穂高温泉

〔問9：B〕 次の温泉地の組み合わせで、3つのうちすべてが同一都道府県内にないものを1つ選びなさい。

- a. 三朝温泉 － 皆生温泉 － 吉岡温泉
- b. 湯涌温泉 － 和倉温泉 － 片山津温泉
- c. 男鹿温泉 － 玉川温泉 － 湯瀬温泉
- d. 嬉野温泉 － 黒川温泉 － 由布院温泉

〔問10：B〕 次の温泉地の組み合わせのうち、その所在地がすべて同じ都道府県内にあるものを1つ選びなさい。

- a. 熱川温泉 － 伊東温泉 － 寸又峽温泉
- b. 石和温泉 － 下部温泉 － 別所温泉
- c. 宇奈月温泉 － 山代温泉 － 瀬波温泉
- d. 男鹿温泉 － 玉川温泉 － 天童温泉

〔問11:A〕 次の下線部 a. ～ d. のうち、誤っているものを1つ
選びなさい。

北海道の温泉地には、屈斜路湖と摩周湖の間にある a. 川湯温泉、独特の黒
っぽい湯が特徴のモール温泉で知られる b. 十勝川温泉、豊平川上流にあり
札幌の奥座敷といわれる c. 登別温泉、函館市の南西部にあり津軽海峡に臨
む d. 湯の川温泉などがある。

〔問12:B〕 次の下線部 a. ～ d. のうち、誤っているものを1つ
選びなさい。

青森県の温泉地には、八甲田の主峰大岳の西麓にあり、大浴場「ヒバ千人風
呂」で有名な a. 酸ヶ湯温泉、津軽の奥座敷といわれ、温泉熱がもやしの栽
培に利用される b. 大鰐温泉、夏泊半島の西側基部にあり、青森湾に面した
風光明媚な c. 蕨温泉、下北半島北部にあり、井上靖が「海峡」の終局を執
筆した地としても知られる d. 下風呂温泉などがある。

〔問13:B〕 宮城県南部、冬季に見られる樹氷で知られる蔵王山の
東麓にある [] は、蔵王観光の拠点の1つで、付近にある蔵王エコー
ラインから蔵王ハイラインを利用すると、エメラルドグリーンの水をたたえ
た円型の火口湖である「御釜」を見ることができる。

a. 銀山温泉 b. 作並温泉 c. 遠刈田温泉 d. 鳴子温泉

〔問14:A〕 [] は、将棋の駒の特産地であり、東北地方有
数の温泉地である。桜まつりの時期には公園広場では人間将棋が行なわれる。

a. 鳴子 b. 飯坂 c. 天童 d. 上山

[問15: A] □ □ □ 群馬県西部にあり、強酸性の硫黄泉である [] 温泉は、標高約1,200mの高原に位置し、温泉が湯畑を中心に万代、西の河原などから湧出し、独特の入浴法である「時間湯」や「湯もみ」が行われることでも知られる。

- a. 伊香保 b. 老神 c. 草津 d. 水上

[問16: A] □ □ □ 榛名山の山麓に湧く温泉地で、365段の石段の両側に旅館、おみやげ物屋などが軒を連ね、徳富蘆花記念文学館があるのは、次のうちどれか。

- a. 四万温泉 b. 老神温泉 c. 川治温泉 d. 伊香保温泉

[問17: B] □ □ □ 奥飛騨温泉郷の1つ [] は、岐阜県と長野県を結ぶ安房トンネルの岐阜県側の玄関口に位置し、乗鞍、上高地、高山などの観光地を結ぶ交通の要所としてバスターミナルがある。

- a. 新穂高温泉 b. 栃尾温泉 c. 平湯温泉 d. 福地温泉

[問18: A] □ □ □ 志賀直哉の小編でも知られ、川岸に柳並木と旅館がつづく情緒豊かな [] 温泉は、一ノ湯、まんだら湯などの外湯を浴衣姿で巡ることも楽しみの1つである。

- a. 水上 b. 城崎 c. 有馬 d. 道後

〔問19:A〕□□□ [] は、美保湾に面した弓ヶ浜半島の白砂青松の海岸線にあり、「米子の奥座敷」と呼ばれ、国内トライアスロン発祥地としても知られている。

- a. 城崎温泉 b. 皆生温泉 c. 羽合温泉 d. 玉造温泉

〔問20:A〕次の [] に該当する温泉名をそれぞれ1つ選びなさい。

(1) □□□ 栗駒国定公園に属し、出羽街道の要所として古くから賑わってきた温泉地である [] は、頭が小さく胴も細い「こけし人形」が土産品として人気がある。

(2) □□□ [] は、中伊豆を代表する温泉地であり、狩野川の支流桂川沿いに位置する。温泉と同音名の寺の近辺には、鎌倉幕府の2代目将軍源頼家の墓や「独鈷の湯」などがある。

(3) □□□ 岐阜県の北東端で、蒲田川沿いに点在する野趣あふれる露天風呂が沢山ある [] は、奥飛騨温泉郷の1つで、北アルプスの好展望台へのぼるロープウェイがあることでも知られている。

- a. 湯村温泉 b. 下呂温泉 c. 新穂高温泉 d. 濁河温泉
e. 修善寺温泉 f. 館山寺温泉 g. 野沢温泉 h. 作並温泉
i. 鳴子温泉 j. 蔵王温泉



海外観光地理 トレーニング問題集

《トレーニング問題集の利用にあたって》

本書に掲載されている問題のうち、各設問文の末尾が「～を**選択肢からすべて選びなさい**」とある場合は、「正しい（又は、誤っている）」と判断した**ものについて、解答用紙（マークシート）にすべてマークすること**となります。**それ以外の設問は、解答用紙（マークシート）に、「正しい（又は、誤っている）」と判断したもの1つマークすること**となります。

〔問1：A〕 中国の観光地等に関する次の記述から、正しいものだけをすべて選んでいるものはどれか。

- (ア) 四川省北部にある九寨溝は、原生林の中に五花海など大小100以上の湖沼や溪流、瀑布が続く景勝地で、ジャイアントパンダの生息地でもある。
- (イ) シルク・ロードの要衝として栄えた敦煌の南郊には、石窟群の多さから「千仏洞」と呼ばれる龍門石窟があり、仏教芸術の宝庫となっている。
- (ウ) 雲南省北西部に位置し、氷河をいただく玉龍雪山の麓に広がる麗江は、城壁がなく古い瓦屋根の美しい街並みが続く町で、世界で唯一の生きた象形文字のトンパ文字をもつナシ族が多く居住していることで知られている。

- a. (ア) (イ)
- b. (ア) (ウ)
- c. (イ) (ウ)
- d. (ア) (イ) (ウ)

〔問2：C〕 北京の北東約250kmにある（ ）には、清朝歴代皇帝が夏の離宮とした避暑山荘があり、山荘の東と北を取り巻くように並ぶ外八廟はチベット仏教の寺廟群として知られる。

- a. 承德
- b. 秦皇島
- c. 瀋陽
- d. 張家口

〔問3：B〕 中国を代表する思想家である孔子の故郷として知られる（ ）は、山東省にあり、孔子を祭った「孔廟」、孔子の直系子孫が住んだ邸宅「孔府」、孔子とその末裔の墓所である「孔林」が遺されている。

- a. 威海市
- b. 曲阜市
- c. 済南市
- d. 泰安市

〔問4：A〕□□□ 北京の故宮博物院の南方に位置する広大な（ ）には、明、清の歴代皇帝が五穀豊穡を祈願した円形の木造建築の祈年殿が建っており、釘を使用していない建物としても知られている。

- a. 頤和園 b. 景山公園 c. 天壇公園 d. 北海公園

〔問5：A〕□□□ 中国東部、安徽省南部にそびえる「天下第一の名山」と古来よりいわれる（ ）は、奇松、奇石、雲海、温泉が複合して山水画の世界そのものを彷彿とさせる独特の景観で知られ、標高1,800mを超える蓮花峰、天都峰、光明頂の三峰を中心に72の峰が連なっている。

- a. 峨眉山 b. 黄山 c. 泰山 d. 武夷山

〔問6：A〕□□□ 敦煌の郊外、鳴沙山東麓の絶壁にある（ ）は、「千仏洞」とも呼ばれる仏像の石窟群で、大小多数の石窟には彩色塑像や壁画が保存されている。

- a. 雲崗石窟 b. 大足石刻 c. 莫高窟 d. 龍門石窟

〔問7：B〕□□□ 陝西省の省都西安の大慈恩寺の境内にある（ ）は、唐の高僧の玄奘三蔵（三蔵法師）が天竺（インド）から持ち帰った經典などを収蔵するため7世紀半ばに建てられた樓閣で、ユネスコの世界文化遺産にも登録されている。

- a. 黄鶴楼 b. 虎丘塔 c. 大雁塔 d. 六和塔

[問8:B] 北京の大通り（ ）は、天安門前を東西に走り、通り沿いには人民大会堂、中国革命博物館・中国歴史博物館などが建ち並ぶ。

- a. 前門大街 b. 長安街 c. 朝陽門大街 d. 王府井大街

[問9:C] 浙江省の北部にある（ ）には、魯迅が学んだ私塾三味書屋や魯迅故居、曲水の宴が催された際に中国の書聖・王羲之が蘭亭序を書いた蘭亭などがある。

- a. 温州市 b. 金華市 c. 杭州市 d. 紹興市

[問10:A] 次の下線部 a. ~ d. のうち、誤っているものを1つ選びなさい。

中国の特別行政区マカオには、a. イギリス領時代からの影響がみられるユネスコの世界文化遺産に登録された歴史地区に、ファサードだけが残るb. 聖ポール天主堂跡や、モザイクタイルが敷き詰められたc. セナド広場などの見どころがあるほか、名物の焼き菓子d. エッグタルトが旅行者に人気である。

[問11:B] 九朝の古都と呼ばれる河南省の洛陽には、中国最古の仏教寺院といわれる（ ）や中国の三大石窟として知られる龍門石窟などがある。

- a. 懸空寺 b. 少林寺 c. 大相国寺 d. 白馬寺

[問12:C] 香港に隣接する経済特区であり、中華民族文化村がある（ ）は、香港からの日帰り観光客で賑う。

- a. 廈門（アモイ） b. 広州（コウシュウ）
c. 深圳（シンセン） d. 澳門（マカオ）

[問13: B] 次の下線部 a. ~ d. のうち、誤っているものを1つ
選びなさい。

三峡クルーズは長江の中流にある a. 三門峽、b. 巫峽、西陵峽の3つの険しい大峽谷を船に乗って巡る旅で、三国志の舞台として名高い c. 白帝城、断崖に作られた木造建築の d. 石宝寨 なども楽しめる。

[問14: C] 次の下線部 a. ~ d. のうち、誤っているものを1つ
選びなさい。

陝西省西安を起点とした見どころに、母系性社会の村落遺跡 a. 三星堆遺跡、北東の臨潼区には玄宗皇帝と楊貴妃で有名な b. 華清池 や c. 秦始皇帝陵、北西約80kmのところには、中国唯一の女性皇帝 d. 則天武后 と唐の高宗との合葬墓乾陵などがある。

[問15: C] 中国山西省の太原の南方にある () は、金融業で活躍した山西商人の故郷として知られ、城壁に囲まれた城内には、明、清時代の街路、楼閣、役所、商店、民家などが遺されている。

- a. 交河故城 b. 高昌故城 c. 平遥古城 d. 麗江古城

[問16: B] 鉄道としては標高5,000mを超える世界で最も高所を走ることによって話題となっている青蔵鉄道は、青海省の西寧とポタラ宮で知られるチベット自治区の () を結ぶ鉄道で、この鉄道を旅するツアーが日本でも注目されている。

- a. カトマンズ b. ティンプー
c. ポカラ d. ラサ

〔問17: A〕 上海の南西約160km、錢塘江下流の北岸に位置する浙江省の省都（ ）は、かつての南宋の都であり、13世紀末にマルコ・ポーロによって「世界で最も美しく華やかな都市」と賞賛された。

- a. 開封 b. 杭州 c. 南京 d. 洛陽

〔問18: A〕 北京市の北西部にあり、1860年英仏連合軍によって破壊されたものを西太后が再建した（ ）には、広大な敷地に杭州の西湖を模して造られた昆明湖を中心に仁寿殿などのある宮殿群、排雲殿や仏香閣のある万寿山などが巧みに配置されている。

- a. 頤和園 b. 拙政園 c. 天壇公園 d. 豫園

〔問19: B〕 北京夏季オリンピックのセーリング競技開催地であった（ ）は、山東半島に位置する港湾都市で、ドイツの占領時代に建てられたキリスト教会や旧提督官邸などの欧風の建物が残され、日本でもよく知られるビールの産地としても有名である。

- a. 上海 b. 大連 c. 青島 d. 天津

〔問20: B〕 中国の三国時代における蜀の都であった（ ）には、諸葛亮（孔明）を祀った武侯祠や杜甫の草堂などの見どころのほか、ジャイアントパンダ繁殖研究基地がある。

- a. 西安 b. 成都 c. 南京 d. 武漢

〔問21: B〕 渤海湾に臨む美しい港町で、坂道の多い街並みを残す（ ）は、遼東半島の南端に位置する中国東北地区では最大の貿易港で、初夏にはアカシア祭りが催される。

- a. 瀋陽 b. 大連 c. 青島 d. 天津



国内観光地理

トレーニング問題集

解答・解説集



Lesson 1 温泉

〔問1〕正解 (1)× (あきう)

(2)○

(3)× (しま)

(4)× (あわら)

(5)× (あたがわ)

(6)○

(7)○

(8)○

(9)× (かんなわ)

(10)× (いぶすき)

〔問2〕正解 c (湯郷-ユノゴウ)

〔問3〕正解 b

a. ゆのかわ

c. しま

d. しもべ

〔問4〕正解 a、c

a. どちらも北海道にある。

b. 下部温泉は山梨県にあり、下諏訪温泉は長野県にある。

c. どちらも愛知県にある。

〔問5〕正解 a

a. すべて静岡県にある。

b. 奥津温泉は岡山県、他は兵庫県にある。

c. 道後温泉は愛媛県、他は山口県にある。

d. 天ヶ瀬温泉は大分県、他は熊本県にある。

〔問6〕正解 d

a. 野沢温泉は長野県、他は新潟県にある。

b. 下部温泉は山梨県、他は静岡県にある。

c. 奥津温泉は岡山県、他は鳥取県にある。

d. すべて熊本県にある。

〔問7〕正解 b

a. 飯坂温泉は福島県、他は山形県にある。

b. すべて長野県にある。大町温泉は長野県大町市にある温泉で、立山黒部アルペンルートの入り口に当たる。昼神温泉は長野県阿智村にあり、トンネル工事中に沸きだした温泉である。

c. 芦原温泉は福井県、他は石川県にある。

d. 十津川温泉は奈良県、他は和歌山県にある。

〔問8〕正解 a

a. あつみ温泉、蔵王温泉、銀山温泉はいずれも山形県にある。

b. 飯坂温泉と芦ノ牧温泉は福島県、遠刈田温泉は宮城県にある。

c. 内牧温泉と黒川温泉は熊本県、日田温泉は大分県にある。

d. 下呂温泉と新穂高温泉は岐阜県、白骨温泉は長野県にある。

〔問9〕正解 d

a. すべて鳥取県にある。吉岡温泉は鳥取県鳥取市にあり、平安時代に薬師如来のお告げで発見したと伝わる温泉である。

b. すべて石川県にある。

c. すべて秋田県にある。玉川温泉は秋田県仙北市にあり、特別天然記念物の「北投石」が生成、産出されることで知られる。

d. 嬉野温泉は佐賀県、黒川温泉は熊本県、由布院温泉は大分県にある。

〔問10〕正解 a

- a. 熱川温泉、伊東温泉、寸又峡温泉はいずれも静岡県にある。
- b. 石和温泉と下部温泉は山梨県、別所温泉は長野県にある。
- c. 宇奈月温泉は富山県、山代温泉は石川県、瀬波温泉は新潟県にある。
- d. 男鹿半島と玉川温泉は秋田県、天童温泉は山形県にある。

〔問11〕正解 c

- c. 誤り。豊平川上流にあり、札幌の奥座敷といわれるのは、札幌市にある“定山溪温泉”である。登別温泉は、北海道西部の登別市にある温泉で、源泉である地獄谷やクマ牧場などがある。

〔問12〕正解 c

- c. 誤り。青森県の夏泊半島の西側基部にあり、青森湾に面した風光明媚な温泉は“浅虫温泉”である。薦温泉は、青森県十和田市にある、八甲田山の麓、深いブナ林に囲まれた閑静な温泉で、源泉の上に浴槽があり、湯船の底板から空気に触れていない源泉が湧き出す「源泉湧き流し」の湯があることで知られている。

〔問13〕正解 c（遠刈田温泉－宮城県）

- a. 銀山温泉－山形県
- b. 作並温泉－宮城県
- d. 鳴子温泉－宮城県

〔問14〕正解 c（天童－山形県）

- a. 鳴子－宮城県
- b. 飯坂－福島県
- d. 上山－山形県

〔問15〕正解 c（草津－群馬県）

- a. 伊香保－群馬県
- b. 老神－群馬県
- d. 水上－群馬県

〔問16〕正解 d（伊香保温泉－群馬県）

- a. 四万温泉－群馬県
- b. 老神温泉－群馬県
- c. 川治温泉－栃木県

〔問17〕正解 c（平湯温泉－岐阜県）

- a. 新穂高温泉－岐阜県
- b. 栢尾温泉－岐阜県
- d. 福地温泉－岐阜県

〔問18〕正解 b（城崎－兵庫県）

- a. 水上－群馬県
- c. 有馬－兵庫県
- d. 道後－愛媛県

〔問19〕正解 b（皆生温泉－鳥取県）

- a. 城崎温泉－兵庫県
- c. 羽合温泉－鳥取県
- d. 玉造温泉－島根県

〔問20〕正解

- (1) i（鳴子温泉－宮城県）
- (2) e（修善寺温泉－静岡県）
- (3) c（新穂高温泉－岐阜県）

※d. の濁河（にごりご）温泉は岐阜県下呂市北東部、御嶽山（おんたげさん）の中腹にある、日本一高所の温泉街である。



海外観光地理

トレーニング問題集

解答・解説集



Lesson 1 アジア

〔問1〕正解 b

(イ)誤り。敦煌の南郊にあり、「千仏洞」と呼ばれるのは“莫高窟”である。龍門石窟は、河南省の洛陽の南西にある石窟寺院である。よって、(ア)(ウ)が正しい。

〔問2〕正解 a (承德:中国)

- b. 秦皇島は、中国華北地区北部、河北省北東部の港湾都市である。市内には万里の長城の東端である山海関がある。
- c. 瀋陽は、中国東北地方南部にある、遼寧省の省都で、清朝の創始者ヌルハチが一時国都としたため、市内には瀋陽故宮がある。
- d. 張家口は、中国華北地区北部、北京の北西方にある河北省北西部の都市である。

〔問3〕正解 b (曲阜市:中国)

- a. 威海市:中国
- c. 済南市:中国
- d. 泰安市:中国

〔問4〕正解 c

- (天壇公園-北京:中国)
- b. 景山公園-北京:中国
- d. 北海公園-北京:中国

〔問5〕正解 b (黄山:中国)

- d. 武夷山:中国

〔問6〕正解 c (莫高窟:中国)

- a. 雲崗石窟:中国
- b. 大足石刻:中国

〔問7〕正解 c (大雁塔-西安:中国)

- a. 黄鶴楼-武漢:中国
- b. 虎丘塔-蘇州:中国

〔問8〕正解 b (長安街-北京:中国)

- a. 前門大街-北京:中国
- c. 朝陽門大街-北京:中国

〔問9〕正解 d (紹興市:中国)

- a. 温州市は、中国華東地区南東部、浙江省南部に位置する、同省南部の経済、文化と交通の中心地である。
- b. 金華市は、中国華東地区南東部、浙江省中部に位置する、同省の中心都市である。
- c. 杭州市は、中国華東地区南東部、錢塘江の左岸に位置する浙江省の省都で、西湖や六和塔、靈隱寺などの見どころがある。

〔問10〕正解 a

- a. 中国の特別行政区マカオは、“ポルトガル”から中国に返還された。“ポルトガル”領時代からの影響がみられる。ユネスコの世界文化遺産に登録された歴史地区がある。

〔問11〕正解 d (白馬寺-洛陽:中国)

〔問12〕正解 c (深圳(シンセン):中国)

〔問13〕正解 a

- a. 三峡クルーズは長江の中流にある“瞿塘峡”、巫峡、西陵峡の3つの険しい大峡谷を船に乗って巡る旅である。三門峡は黄河の中流にある峡谷である。

〔問14〕正解 a (三星堆遺跡:中国)

- a. 三星堆遺跡は、四川省の省都の成都の北の広漢市にあり、大量の青銅器が発見され、注目を集めた。

〔問15〕 正解 c (平遥古城:中国)

- a. 交河故城は、中国西北部、新疆ウイグル自治区東部の都市トルファン西部に位置する、前漢の頃にこの地を支配した車師前国の王城の遺跡である。
- b. 高昌故城は、中国西北部、新疆ウイグル自治区東部の都市トルファン東部に位置する、5～7世紀に栄えた高昌国の王城の遺跡である。

〔問16〕 正解 d (ラサ:中国)

- b. ティンプー:ブータン

〔問17〕 正解 b (杭州:中国)

- a. 開封:中国

〔問18〕 正解 a (頤和園-北京:中国)

〔問19〕 正解 c (青島:中国)

〔問20〕 正解 b (成都:中国)

〔問21〕 正解 b (大連:中国)

〔問22〕 正解 b

- b. 北京にある、ユネスコの世界遺産に登録されているもので、清朝西太後の離宮で知られているのは“頤和園”である。

〔問23〕 正解 a (峨眉山:中国)

〔問24〕 正解 d (明の十三陵-北京市)

〔問25〕 正解 b (蘇州:中国)

- c. 無錫:中国
d. 揚州:中国

〔問26〕 正解 c

- (ア)誤り。士林夜市は“台北市”最大規模の夜市である。
よって、(イ)(ウ)が正しい。

〔問27〕 正解 a

- a. 高雄で一番大きな湖で、曲橋釣月の九曲橋があるのは“澄清湖”である。蓮池潭は、高雄市左営区にある湖で、龍虎塔や春秋閣が見どころである。

〔問28〕 正解 d

- d. 龍虎塔が湖畔に建つのは、高雄の“蓮池潭”である。日月潭は、台湾中部にある湖である。

〔問29〕 正解 b (九份:台湾)

- a. 烏来:台湾
c. 淡水:台湾
d. 野柳:台湾

〔問30〕 正解 d (高雄:台湾)

- c. 台南:台湾

〔問31〕 正解 d

- d. 誤り。慶州に関する記述である。

〔問32〕 正解 a (慶州:韓国)

〔問33〕 正解 c (濟州島:韓国)

- a. 鬱陵島:韓国
b. 巨濟島:韓国
d. 珍島:韓国

〔問34〕 正解 b (仁寺洞)

- a. 梨泰院-ソウル:韓国
c. 三清洞-ソウル:韓国
d. 明洞-ソウル:韓国

〔問35〕 正解 d

- d. 誤り。釜山タワーがあるのは釜山市の“龍頭山公園”である。南山公園はソウルにある公園で、Nソウルタワーがある公園として知られる。